

Код Г2009

Олимпиадная работа  
школьного этапа всероссийской олимпиады школьников  
по географии  
обучающегося 9 Б класса  
муниципального бюджетного общеобразовательного учреждения  
«Средняя общеобразовательная школа № 11»  
Предгорного муниципального округа Ставропольского края

Батаева Мария Алексеевна

Педагог-наставник: учитель географии  
муниципального бюджетного  
общеобразовательного учреждения  
«Средняя общеобразовательная школа  
№ 11» Предгорного муниципального  
округа Ставропольского края  
Комарова Светлана Владимировна

20 сентября 2023 год

**Всероссийская олимпиада школьников по географии**  
**Школьный этап олимпиады.**  
**Задания для 9 класса**

Общее время выполнения работы – 1 урок (45 минут)  
При работе запрещено пользоваться справочными материалами, мобильными телефонами, карманными компьютерами.

**Часть А**

1. Крупные запасы нефти имеются на побережье и шельфе  
а. Гудзонова залива  
б. Моря Лаптевых  
в. Чукотского моря  
г. Мексиканского залива  
 г.
2. В какой природной зоне природные комплексы труднее всего восстанавливаются после изменения их человеком?  
а. Тундры и лесотундрыв.  
б. Степи и лесостепи  
в. Широколиственных лесов  
г. Саванн  
 в.
3. Кто были первооткрывателями Антарктиды?  
а. Ф.Ф. Беллинсгаузен и М.П. Лазаревв.  
б. Руал Амундсен  
в. Джеймс Кук  
г. Роберт Скотт  
 г.
4. Какой из перечисленных народов России является наиболее крупным по численности?  
а. Якуты  
б. Карелы  
в. Татары  
г. Ханты  
 в.
5. Для какого из перечисленных субъектов РФ характерен самый высокий показатель естественного прироста населения?  
а. Ставропольский крайв.  
б. Краснодарский край  
в. Ростовская область  
г. Республика Дагестан  
 в.
6. Какая из природных зон России занимает наибольшую территорию?  
а. тундра  
б. тайга  
в. смешанный лес  
г. степь  
 в.
7. Выберите область, население которой соответствует следующим характеристикам:  
- доля городского населения свыше 75%;  
- плотность населения около 1 чел/км<sup>2</sup> :  
а. Ленинградская обл.  
б. Новосибирская обл.  
в. Кемеровская обл.  
г. Ростовская обл.  
 в.
8. Какие моря относятся к бассейну Атлантического океана?  
а. Карибское и Черное  
б. Белое и Баренцево  
в. Баренцево и Аравийское  
г. Тасманово и Берингово  
 б.
9. О каком полезном ископаемом мы говорим, когда упоминаем о названиях таких его бассейнах залегания как Кузбасс, Донбасс, Печорский, Ленский?  
а) газ  
б) уголь  
в) нефть  
г) железная руда  
 в.
10. Максимальные запасы гидроэнергетических ресурсов сосредоточены в бассейне:  
а) Волги  
б) Лены  
в) Оби  
г) Енисея  
 в.

25

25

25

25

05

05

25

05

05

05

105

## Часть В

1. Расположите регионы страны в той последовательности, в которой их жители встречают Новый год.

а. Красноярский край    б. Краснодарский край    в. Приморский край    г. Пермский край

В; А; Б; Б 58

2. Укажите верные пары «субъект РФ/ центр (столица)»:

А) республика Карелия	1) Биробиджан
Б) Еврейская автономная область	2) Казань
В) республика Хакасия	3) Петрозаводск
Г) республика Татарстан	4) Абакан

05

3. Установите соответствие:

1. Афанасий Никитин	Б	А. Доказательство шарообразности Земли (наблюдения затмений)	
2. Крашенинников	В	Б. Путешествие в Индию, «Хождение за три моря»	
3. Аристотель		В. «Описание Земли Камчатки»	
4. Птолемей	А	Г. Описание Памира, муссонов Индии, полезных растений Китая	58
5. Марко Поло	Г	Д. Открытие берегов Северной Америки	
6. Дж. Кабот	Д	Е. «География» в 8 томах. Первая настоящая карта	

4. Какой экономический район России обеспечивают энергией две крупных АЭС?

05

5. Укажите три города в которых находятся автомобильные заводы.

а) Пермь	<input type="checkbox"/> Г) Тольятти
б) Киров	д) Смоленск
<input checked="" type="checkbox"/> в) Набережные Челны	<input checked="" type="checkbox"/> е) Нижний Новгород

58

## Часть С

### Задание 1

Этот водоем самый глубокий в России, он содержит 1/5 запасов пресных вод планеты (не считая ледников). В него впадает более 300 рек, а вытекает из него только одна. Берега водоема покрыты почти полностью хвойными лесами. По берегам открыты заповедники. В одном из них, открытом в 1916 году, в районе хребта на восточном берегу обитает ценный зверек, имеющий такое же название, что и хребет, полученное по названию реки, впадающей в водоем. Эта же река дала имя северо-восточному ветру.

1. Что это за водоем?
  2. В каких субъектах Российской Федерации он расположен?
  3. Как называется река, вытекающая из водоема?
  4. Как называется река, давшая название зверьку, хребту и ветру?
  5. Как называется этот зверек?
- 05

**Задание 2 30 баллов**

По нижеприведенному описанию определите, о каких российских географических объектах идет речь. Укажите субъекты Федерации, к которым привязаны приведённые ниже описания. Выберите из списка название этносов (по одному для каждого описания), к ареалу расселения которых они относятся. Ответ оформите в виде таблицы.

1. Самый длинный тоннель, протяженностью более 15 км.
2. Озеро, с официально утвержденным статусом географического центра России.
3. Город, характеризующийся самой большой годовой амплитудой температур, разница между средней температурой самого теплого и самого холодного месяцев составляет более 67°C.
4. Высшая точка азиатской части России.
5. Устье (зуба) этой реки является самым широким, достигая 80 км. Какая из российских рек может «похвастаться» данной особенностью?

**Этносы:** осетины, коми, алтайцы, шорцы, хакасы, балкарцы, ненцы, селькупы, башкиры, ульчи, ханты, нивхи, эвенки, юкагиры, тувинцы, коряки, долганы, калмыки, нганасаны, якуты, долганы, агулы, удэгейцы, ногайцы.

Географический объект (название)	Субъект федерации	Этнос
1.		
2.		
3.		
4.		
5.		

Часть А: 108

Часть В: 158

Часть С

задание 1: 08

задание 2: 08

Председатель: Ковалева Э.В.

Члены жюри: Митрова А.И.

Киселева С.В.

08  
Итого: 258

Код р 7001

Олимпиадная работа  
школьного этапа всероссийской олимпиады школьников  
по географии  
обучающегося 7 А класса  
муниципального бюджетного общеобразовательного учреждения  
«Средняя общеобразовательная школа № 11»  
Предгорного муниципального округа Ставропольского края

Батаева Вероника Николаевна

Педагог-наставник: учитель географии  
муниципального бюджетного  
общеобразовательного учреждения  
«Средняя общеобразовательная школа  
№ 11» Предгорного муниципального  
округа Ставропольского края  
Комарова Светлана Владимировна

20 сентября 2023 год

Всероссийская олимпиада школьников по географии  
Школьный этап олимпиады.

7 класс

ЗАДАНИЯ ТЕСТОВОГО ТУРА

Прочитайте предложенные вопросы, на каждый вопрос дайте только один правильный ответ.

(Задания оцениваются в 2 балла. Максимальное количество баллов – 30.)

Тест		
1. Какой из представленных масштабов самый крупный: ① 1:25000; 2) 1:50000; 3) 1:100000; 4) 1:1000000?		2
2. Превышение точки земной поверхности по отвесной линии над уровнем моря – это: 1) горизонталь; ② абсолютная высота точки; 3) относительная высота точки; 4) бергштрихи		2
3. Линии, соединяющие точки с одинаковыми глубинами, называют: 1) изотермы; 2) изобары; ③ изобаты; 4) градусная сетка		2
4. На какой карте можно проследить размещение зональных природных комплексов на Земле: 1) физической 2) строения земной коры; 3) климатической; ④ природных зон.		2
5. Где земная кора имеет наибольшую толщину? 1) под океаном; 2) на Кавказе; ③ в Гималаях; 4) на Амазонской низменности.		2
6. Нулевой меридиан проходит через город: ① Лондон; 2) Париж; 3) Берлин; 4) Москва		2
7. Какова будет температура воздуха на горе Монблан (4800 м), если у ее подножия температура воздуха составила + 20°C: 1) +48,8°C; 2) –48,8°C; 3) +24,8°C; ④ –8,8°C		2
8. Определите, в каком из случаев будет дуть самый сильный ветер: ① в точке А давление 741 мм в точке Б 750мм; 2) в точке А давление 763 мм в точке Б 758 мм; 3) в точке А давление 754 мм в точке Б 752 мм; 4) в точке А давление 755 мм в точке Б 762 мм.		2

<p>9. Самая низкая температура воздуха, зафиксированная на земном шаре, составляет – 89,2°С. Выберите место, где это могло быть:</p> <p>1) Оймякон (Россия);</p> <p>2) Северный полюс;</p> <p><input checked="" type="radio"/> 3) Антарктида (станция Восток);</p> <p>4) о. Гренландия.</p>		2
<p>10. Выберите правильное утверждение, в котором указаны материки по мере увеличения их площади:</p> <p>1) Австралия, Антарктида, Северная Америка, Южная Америка, Африка, Евразия;</p> <p><input checked="" type="radio"/> 2) Евразия, Африка, Северная Америка, Южная Америка, Антарктида, Австралия;</p> <p>3) Австралия, Антарктида, Южная Америка, Африка, Северная Америка, Евразия;</p> <p>4) Австралия, Антарктида, Южная Америка, Северная Америка, Африка, Евразия.</p>		0
<p>11 Самой полноводной рекой на Земле является:</p> <p><input checked="" type="radio"/> 1) Ганг 2) Амазонка 3) Енисей 4) Нил.</p>		0
<p>12 Наибольшая часть запасов пресных вод на Земле содержится в...</p> <p><input checked="" type="radio"/> 1) ледниках; 2) реках; 3) озерах; 4) болотах</p>		2
<p>13. Гейзером называют источник, периодически выбрасывающий из земных недр:</p> <p>1) лаву</p> <p><input checked="" type="radio"/> 2) горячую воду и пар</p> <p>3) газы и пыль</p> <p>4) грязевые потоки</p>		2
<p>14. Укажите верное утверждение.</p> <p><input checked="" type="radio"/> 1) Восточно-Европейская равнина имеет плоскую поверхность;</p> <p>2) Алтайские горы расположены на материке Евразия;</p> <p>3) Вулкан Ключевская Сопка расположен на Скандинавском полуострове;</p> <p>4) Гора Казбек – самая высокая вершина Кавказа.</p>		0
<p>15. В саратовских степях обитает самая крупная летающая птица мира. Какая?</p> <p><input checked="" type="radio"/> 2) дрофа 3) лебедь 4) тетерев</p>	<p>1) аист</p>	

24

### ЗАДАНИЯ ТЕОРЕТИЧЕСКОГО ТУРА .

Вопрос 1 Дополните предложения.

Ответьте на вопросы. (5 баллов) -256

1. Дополните: «Равнины, расположенные на высоте от 200 до 500 метров над уровнем моря, называются .....	
<i>возвышенностями</i>	<i>5</i>
2. О каком понятии идет речь: «Ветер, меняющий своё направление дважды в год»?	
<i>Муссон</i>	<i>5</i>
3. Укажите «цветные» моря?	
<i>Белое, Черное, Красное, Желтое</i>	<i>5</i>
4. Назовите самое большое по площади озеро Земли?	
<i>Восточная Сибирь</i>	<i>0</i>
5. Назовите высочайшие горы мира?	
<i>Джомолунгма</i>	<i>0</i>

Вопрос 2

Составьте пары правильных ответов «прибор- единица измерения», которой характеризуется измеряемая прибором величина.

(2 балла) 106

Единицы измерения: балл, метр, миллиметр, миллиметр ртутного столба, процент%

барометр	гигрометр	осадкомер	флюгер	эхолот
<i>миллиметр ртутного столба</i>	<i>процент %</i>	<i>миллиметр</i>	<i>балл</i>	<i>метр.</i>
<i>2</i>	<i>2</i>	<i>2</i>	<i>2</i>	<i>2</i>

Вопрос 3. За каждый правильный ответ – 2балла (10)

Какой пролив одновременно соединяет два океана, два моря, разделяет два материка, две части света, два государства? Укажите название этого пролива и парами названия объектов, которые он соединяет или разъединяет

	Какие?
Какой пролив одновременно соединяет-	
два океана-	
два моря-	
разделяет два материка-	
два государства-	



Вопрос 4. Заполните таблицу:  
 За каждый правильный ответ – 5 баллов. Количество баллов – 35  
 «Имена путешественников и исследователей эпохи Великих географических открытий»

№ п/п	Исследования	Даты	Имена исследователя	
1	Первым побывал у берегов Южной Америки и исследовал ее западное побережье.	1492	Христофор Колумб	5
2	Часть света названа его именем, т.к. он исследовал этот материк.	1501		0
3	Он совершил первое кругосветное путешествие.	1518	Фернан Магелан	5
4	Он обогнул Африку и нашел морской путь в Индию.	1497	Васко. Де Гама	5
5	Из Англии проложил путь к Северной Америке.	1497		0
6	Путешествие из России в Индию по Волге, через Персию.	1466		0
7	Исследовал восточные берега Южной Америки, совершил кругосветное путешествие.	1577	Ф. Дрейк	5

Тест: 24 б

- 1 задание: 15 б
- 2 задание: 10 б
- 3 задание: 0 б
- 4 задание: 4 б

Преподаватель: Ковылова Э.В.

Имена истории: Митусова А.И.

Кашарова С.В.



Итого: 69 б

20 б

Код Г10001

Олимпиадная работа  
школьного этапа всероссийской олимпиады школьников  
по географии  
обучающегося 10 класса  
муниципального бюджетного общеобразовательного учреждения  
«Средняя общеобразовательная школа № 11»  
Предгорного муниципального округа Ставропольского края

Ващенко Юлия Александровна

Педагог-наставник: учитель географии  
муниципального бюджетного  
общеобразовательного учреждения  
«Средняя общеобразовательная школа  
№ 11» Предгорного муниципального  
округа Ставропольского края  
Митусова Анжела Ивановна

20 сентября 2023 год

**Всероссийская олимпиада школьников по географии**  
**Школьный этап олимпиады**  
**Задания для 10 - 11 класса**

Общее время выполнения работы – 2 урока (90 минут)

При работе запрещено пользоваться справочными материалами, мобильными телефонами, карманными компьютерами.

**ЧАСТЬ А (1 балл за правильный ответ)**

1. Какое из перечисленных государств по форме правления является монархией?

- 1) Испания
- 2) Португалия
- 3) Франция
- 4) Финляндия

25

2. Какая из перечисленных стран находится в Азии?

- 1) Нигерия
- 2) Пакистан
- 3) Боливия
- 4) Судан

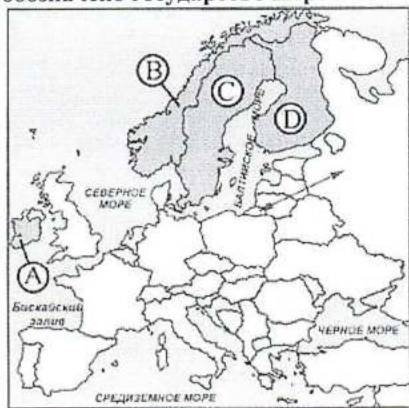
25

3. Для какой из перечисленных стран характерен наибольший приток иммигрантов?

- 1) Иран
- 2) Монголия
- 3) Канада
- 4) Эфиопия

25

4. Какой буквой на фрагменте политической карты зарубежной Европы обозначено государство Норвегия?



- 1) А
- 2) В
- 3) С
- 4) D

25

5. Исключите город не находящийся на Волго-Балтийском водном пути:

- 1) Самара;
- 2) Ярославль;
- 3) Тверь;
- 4) Санкт-Петербург.

25

6. Укажите верные пары «государство и часть Мирового океана, к которой оно имеет выход».

- 1) Испания — Средиземное море
- 2) Турция — Красное море
- 3) Индия — Бенгальский залив
- 4) Венесуэла — Карибское море
- 5) Эфиопия — Аравийское море

15

7. Укажите верные пары «страна — гигант по численности; населения и ее столица».

- 1) Китай — Дели
- 2) Индонезия — Джакарта
- 3) Бразилия — Рио-де-Жанейро
- 4) Пакистан — Исламабад

15

8. Определите страну по описанию.

*Это развивающееся государство расположено на нескольких тысячах больших и малых островов и полуострове, по форме правления является монархией, административное устройство - федерация.*

- 1) Индонезия
- 2) Малайзия
- 3) Филиппины
- 4) Япония

05

9. Укажите тройку стран - лидеров по выплавке стали.

- 1) США
- 2) Россия
- 3) Люксембург
- 4) Бельгия
- 5) Италия
- 6) Япония
- 7) Китай

05

10. Определите страну по описанию.

*Эти государство - гигант по площади, но не по численности населения, оно входит в Содружество с Великобританией, по социально-экономическим показателям является страной переселенческого Капитализма.*

- 1) США
- 2) Бразилия
- 3) Канада
- 4) Нигерия

25

11. В каком из высказываний содержится информация о процессе урбанизации?

- 1) Численность и плотность населения увеличиваются в тех странах и регионах, где наиболее высок естественный прирост населения;
- 2) Половина населения мира живет в сельской местности, а общее количество сельских населенных пунктов составляет 15-20 млн;
- 3) В начале XX в. в мире насчитывалось 360 больших городов, к началу XXI в. число больших городов достигло 4 тыс;
- 4) В наименее развитых странах проживает более 600 млн. человек со среднедушевым ВВП 100 - 300 долл. в год.

20

12. Какая из перечисленных стран находится в Азии?

- 1) Нигерия
- 2) Пакистан
- 3) Боливия
- 4) Судан

25

13. Установите соответствие между страной и ее столицей.

- |            |              |             |
|------------|--------------|-------------|
| 1) Вьетнам | а) Стокгольм |             |
| 2) Швеция  | б) Коломбо   |             |
| 3) ЮАР     | в) Ханой     | г) Претория |

25

1-в, 2-а, 3-г

14. Какая из перечисленных городских агломераций является наиболее крупной по численности населения?

- 1) Варшава  
 2) Нью-Йорк  
 3) Лондон  
 4) Рим

15

15. К концу XX века в мире уменьшилось влияние на размещение отраслей промышленности фактора:

- 1) сырьевого  
 2) транспортного  
 3) экологического  
 4) энергетического

15

1405

**Часть В (2 балла за правильный ответ)**

1. Установите соответствие «порт – море»:

- |                |               |
|----------------|---------------|
| 1- Находка     | А- Балтийское |
| 2- Мурманск    | Б- Японское   |
| 3- Калининград | В- Баренцево  |
| 4- Тикси       | Г- Лаптевых.  |

А Б В Г  
3 1 2 4

55

2. Особенности географического положения Евразии. Найдите соответствие:

- |  |                   |
|--|-------------------|
| 1) Океан, омывающий западное побережье;      | а) Ла-Манш;       |
| 2) Крайний южный мыс материка;               | б) Атлантический; |
| 3) Залив на юге материка;                    | в) Балканский;    |
| 4) Остров у восточного побережья;            | г) Цай;           |
| 5) Залив на западе материка;                 | д) Бенгальский;   |
| 6) Пролив, отделяющий остров Великобритания; | е) Тайвань;       |
| 7) Крупный полуостров материка.              | ж) Бискайский.    |

1-б  
2-в  
3-г  
4-д  
5-ж  
6-а  
7-б

55

3. Установите соответствие между озером и территорией, где оно расположено:

- |               |                                  |
|---------------|----------------------------------|
| 1) Ладожское; | а) в Новгородской области;       |
| 2) Кроноцкое; | б) горные районы юга Сибири;     |
| 3) Байкал;    | в) в Ленинградской области;      |
| 4) Ильмень;   | г) в Тверской области;           |
| 5) Баскунчак; | д) на полуострове Камчатка;      |
| 6) Великое;   | е) на Прикаспийской низменности. |

1-б  
2-в  
3-б  
4-г  
5-д  
6-а

05

**Часть С**

105

**Задание 1 (3 балла за правильный ответ)**

Эта страна-архипелаг по форме правления является конституционной монархией. Однородное по национальному составу население этой страны отличается большой численностью: она входит в первую десятку населения стран мира. Страна обладает очень крупным и самым современным морским торговым флотом, так как около 9/10 используемого сырья и топлива импортируется. *Япония*

55

**Задание 2 (4 балла за правильный ответ)**

Внутренние миграции населения оказывают заметное влияние на численность населения субъектов Российской Федерации. При планировании мер по обеспечению населения жильем, рабочими местами, объектами социальной сферы необходимо учитывать влияние миграционных процессов на численность населения региона. В таблице приведены данные, взятые с официального сайта Федеральной службы государственной статистики.

$$\begin{array}{r} 1633350 \\ -1621658 \\ \hline 11682 \end{array}$$

ответ: 11682

$$\begin{array}{r} 1633350 \\ -1621658 \\ \hline 11682 \end{array}$$

08

**Численность и естественный прирост населения  
Ленинградской области**

	2006	2007	2008
Численность постоянного населения на 1 января, человек.	1643888	1637737	1633350
Естественный прирост населения, человек, значение показателя за год.	-18665	-16079	нет данных

Проанализировав эти данные, определите величину миграционного прироста (убыли) населения Ленинградской области в 2007 г. Запишите решение задачи. *11682*

**Задание 3. (15 баллов за правильный ответ - 6 баллов - за реку, по 0,5 баллов за притоки, города, баллы за названные электростанции и отрасли промышленности).**

«Эта река катит свои воды через всю Сибирь; словно измерив всю необъятную ширь, делит глубоким руслом огромную страну на две равные части. Сказочно хороша река своим величавым течением, природой и живописными городами и селами, горделиво возвышающимися на крутых берегах. С левого берега у реки притоков мало и нет среди них значительных. Все крупные притоки подходят к реке справа. Это самая многоводная река России. Она выносит в океан воды больше, чем все реки Европейской части страны». (По А. Муранову)

О какой реке идет речь? Назовите известные вам притоки этой реки. Какие крупные города находятся на её берегах и берегах притоков? Какие сооружения и отрасли промышленности возникли на этой реке? *Енисей. 65.*

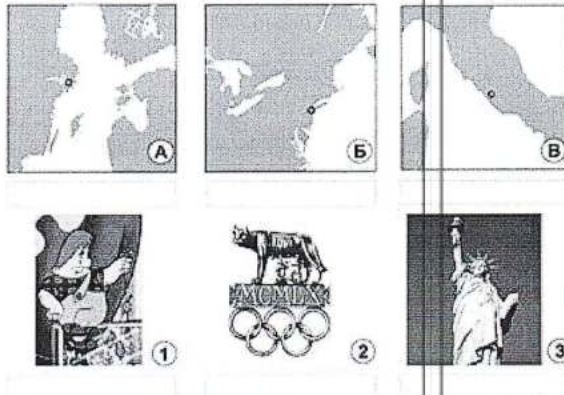
**Задание 4. (14 баллов (2 балла за каждый правильный ответ))**

**Исправьте географические ошибки**

Остров Юкатан *полуостров*; Залив Ютландия *полуостров*; Карибское озеро *море*; Река Гекла *вулкан*; Гора Меконг *река*; Город Лабрадор *полуостров*; Страна Тегеран *город*. *145*

**Задание 5. (12 баллов)**

Впишите во вторую колонку таблицы номера рисунков так, чтобы образовались осмысленные пары «город — рисунок». Поясните, почему вы так сделали?



Объект	Рисунок	Пояснение
A	1	
B	3	США
B	2	Олимпийские игры были в Италии

*Всего - 145  
Часть В - 108  
Часть С - 358  
Всего - 695  
Президентство:  
Д.В. Медведева  
Целины, петри:  
И.И. Мельникова  
С.В. Медведева  
100.*

*Статия свободы находится в США*

Код Г8002

Олимпиадная работа  
школьного этапа всероссийской олимпиады школьников  
по географии  
обучающегося 8 А класса  
муниципального бюджетного общеобразовательного учреждения  
«Средняя общеобразовательная школа № 11»  
Предгорного муниципального округа Ставропольского края

Горовой Роман Викторович

Педагог-наставник: учитель географии  
муниципального бюджетного  
общеобразовательного учреждения  
«Средняя общеобразовательная школа  
№ 11» Предгорного муниципального  
округа Ставропольского края  
Митусова Анжела Иванова

20 сентября 2023 год





Часть В

1. Выберите из списка государства, жители которых могут видеть Солнце в северной части неба:

- а) Украина, б) Япония, в) Индия, г) Аргентина,  д) Испания, е) Монголия, ж) Люксембург, з) Филиппины, и) Чили,  к) Тунис, л) Ливия, м) Намибия,  н) Мадагаскар

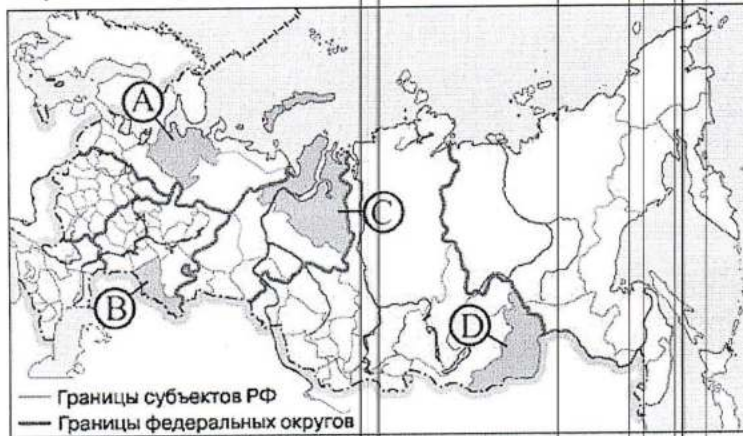
05

2. Найдите соответствие: прибор для измерения метеорологического явления или процесса – его название:

- а) прибор для измерения атмосферного давления — 1) анемометр  
б) прибор для измерения влажности воздуха — 2) барометр  
в) прибор для измерения количества жидких осадков — 3) гигрометр  
г) прибор для определения направления ветра — 4) пьювиограф  
д) прибор для измерения скорости ветра — 5) флюгер

105

3. Какой буквой на карте России обозначена Архангельская область?



- 1) А 2) В 3) С 4) D

25

4. На границе какого государства и региона России находится крайняя южная точка страны?

- а) Грузия – Республика Карачаево-Черкесия  
 б) Азербайджан – Республика Дагестан  
в) Монголия – Республика Тыва  
г) Северная Корея – Приморский край

25

5. Укажите местное время на меридиане 60° в.д., когда на нулевом меридиане полночь?

- а) 4 часа б) 6 часов  в) 12 часов г) 16 часов

05

145

Часть С

1. Какой пролив одновременно соединяет два океана, два моря, разделяет два материка, две части света, два полуострова, два государства? Укажите название этого пролива и парами названия объектов, которые он соединяет или разъединяет. Берингов пролив. 100

2. В городах Астрахань, Волгоград, Кострома, Нижний Новгород, Новгород и Тверь решили построить телебашни. В каком из городов шпиль телебашни будет находиться выше всего над уровнем моря, а в каком - ниже при одинаковой высоте металлической конструкции? Астрахань - ниже, Нижний Новгород - выше. 80

3. На нулевом меридиане 12 ч., а на корабле 17 ч. По какому океану, омывающему берега России, плывет корабль? Северо-Ледовитый океан. 200

Всего.

Часть А: 100

Часть В: 140

Часть С: 200 + 20

440 + 20.

Председатель:

Д. В. Новикова

Члены жюри:

И. И. Шенякина  
С. В. Кошарова

И. И. Шенякина

С. В. Кошарова

Код 18005

Олимпиадная работа  
школьного этапа всероссийской олимпиады школьников  
по географии  
обучающегося 8 Б класса  
муниципального бюджетного общеобразовательного учреждения  
«Средняя общеобразовательная школа № 11»  
Предгорного муниципального округа Ставропольского края

Дубровина Анна Андреевна

Педагог-наставник: учитель географии  
муниципального бюджетного  
общеобразовательного учреждения  
«Средняя общеобразовательная школа  
№ 11» Предгорного муниципального  
округа Ставропольского края  
Митусова Анжела Ивановна

20 сентября 2023 год

**Всероссийская олимпиада школьников по географии**  
**Школьный этап олимпиады**  
**Задания для 8 класса**

Общее время выполнения работы – 1 урок (45 минут)

При работе запрещено пользоваться справочными материалами, мобильными телефонами, карманными компьютерами.

**Часть А**

1. Укажите пару стран, НЕ имеющую с Россией общую границу:  
а) Казахстан - Узбекистан;                      б) Киргизия - Молдавия;                      15  
в) Армения - Белоруссия                      г) Грузия - Болгария.
  2. В каком варианте правильно указаны координаты крайней восточной материковой точки России?                      15  
а)  $66^{\circ}$  с.ш.  $169^{\circ}$  з.д.;    б)  $77^{\circ}$  ю.ш.  $105^{\circ}$  в.д.;    в)  $70^{\circ}$  с.ш.  $30^{\circ}$  з.д.;    г)  $45^{\circ}$  с.ш.  $45^{\circ}$  в.д.
  3. Если именованный масштаб карты в 1 см 2 км, то численный масштаб составляет                      15  
а) 1:2 000                      б) 1: 20 000                      в) 1: 200 000                      г) 1: 2 000 000
  4. Какой ученый, наблюдая за затмением луны, впервые предположил, что Земля имеет форму шара?                      15  
а) Меркатор; б) Аристотель; в) Эратосфен; г) Пифагор.
  5. Кто впервые точно измерил диаметр Земли?                      15  
а) Эратосфен; б) Меркатор; в) Бируни; г) Ортелий; д) Птолемей.
  6. Северный и южный склоны холма очерчены 6-ю сплошными горизонталями. Расстояние между соседними горизонталями на северном склоне 3 мм, а на южном – 5 мм. Найдите верное утверждение:                      15  
а) северный склон круче южного,    б) южный склон круче северного, в) северный склон выше южного, г) южный склон выше северного, д) склоны имеют одинаковую крутизну.
  7. Выберите единственно правильный ответ:                      15  
а) Россию пересекает линия перемены дат;  
б) Россия расположена в трех полушариях;  
в) Россия расположена в двенадцати часовых поясах;  
г) Россия расположена в одном поясе освещенности;  
д) В столице России в период с мая по октябрь включительно продолжительность дня больше ночи
  8. На мировой карте полушарий наименьшее искажение имеет:                      15  
а) о-ва Новая Зеландия; б) о-ва Японские; в) п-ов Индостан; г) п-ов Чукотский
  9. Определите тип климата по описанию:                      15  
«Жара нестерпимая. Океан затих. Знойно и душно. В воздухе никакого движения. В каютах нечем дышать, тело покрывается испариной, простыни и подушки влажные».  
а) умеренный морской                      б) тропический пустынный  
в) экваториальный                      г) субтропический
  10. Заповедник «Долина гейзеров» находится...                      15  
а) на Камчатке                      б) на Алтае                      в) в Крыму                      г) в Западной Сибири
- 105

### Часть В

1. Выберите из списка государства, жители которых могут видеть Солнце в северной части неба:

- а) Украина, б) Япония, в) Индия,  г) Аргентина, д) Испания, е) Монголия,  ж) Люксембург, з) Филиппины,  и) Чили, к) Тунис, л) Ливия,  м) Намибия, н) Мадагаскар

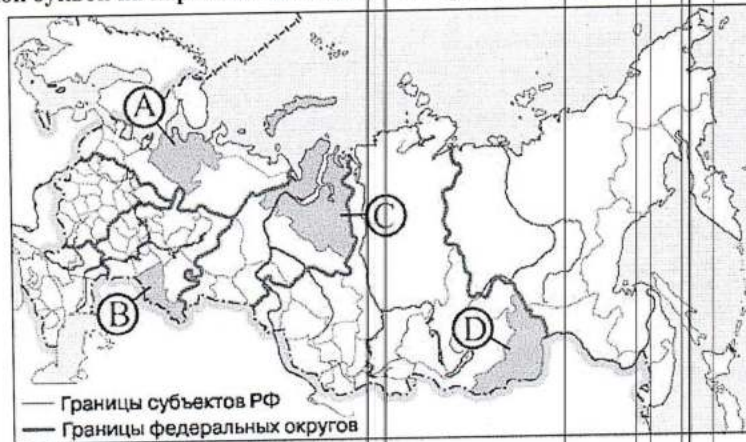
30

2. Найдите соответствие: прибор для измерения метеорологического явления или процесса – его название:

- |   |              |
|---|--------------|
| а) прибор для измерения атмосферного давления (2)     | 1) анемометр |
| б) прибор для измерения влажности воздуха (3)         | 2) барометр  |
| в) прибор для измерения количества жидких осадков (4) | 3) гигрометр |
| г) прибор для определения направления ветра (5)       | 4) пневограф |
| д) прибор для измерения скорости ветра (5)(1)         | 5) флюгер    |

100

3. Какой буквой на карте России обозначена Архангельская область?



- 1) А     2) В    3) С    4) D

05

4. На границе какого государства и региона России находится крайняя южная точка страны?

- а) Грузия – Республика Карачаево-Черкесия  
 б) Азербайджан – Республика Дагестан  
в) Монголия – Республика Тыва  
г) Северная Корея – Приморский край

25

5. Укажите местное время на меридиане 60° в.д., когда на нулевом меридиане полночь?

- а) 4 часа    б) 6 часов    в) 12 часов    г) 16 часов

25

175

Часть С

1. Какой пролив одновременно соединяет два океана, два моря, разделяет два материка, две части света, два полуострова, два государства? Укажите название этого пролива и парами названия объектов, которые он соединяет или разъединяет.

2. В городах Астрахань, Волгоград, Кострома, Нижний Новгород, Новгород и Тверь решили построить телебашни. В каком из городов шпиль телебашни будет находиться выше всего над уровнем моря, а в каком - ниже при одинаковой высоте металлической конструкции?

3. На нулевом меридиане 12 ч., а на корабле 17 ч. По какому океану, омывающему берега России, плывет корабль?

1. Берингов пролив 105  
2. Тверь - выше Кострома, Н. Новгород, Волгоград, Астрахань - ниже 105  
3. Сев лед океан 105

605.

Всего.

Часть А - 205

Часть Б - 175

Часть С - 605

275

Председатель:

А.В. Новиков,

Члены жюри:

И.И.  
С.В.

А.М. Мухомов

С.В. Комарова

Код Г8003

Олимпиадная работа  
школьного этапа всероссийской олимпиады школьников  
по географии  
обучающегося 8 А класса  
муниципального бюджетного общеобразовательного учреждения  
«Средняя общеобразовательная школа № 11»  
Предгорного муниципального округа Ставропольского края

Крутина Татьяна Сергеевна

Педагог-наставник: учитель географии  
муниципального бюджетного  
общеобразовательного учреждения  
«Средняя общеобразовательная школа  
№ 11» Предгорного муниципального  
округа Ставропольского края  
Митусова Анжела Иванова

20 сентября 2023 год

**Всероссийская олимпиада школьников по географии**  
**Школьный этап олимпиады**  
**Задания для 8 класса**

Общее время выполнения работы – 1 урок (45 минут)

При работе запрещено пользоваться справочными материалами, мобильными телефонами, карманными компьютерами.

**Часть А**

1. Укажите пару стран, НЕ имеющую с Россией общую границу:

- а) Казахстан - Узбекистан;                       б) Киргизия - Молдавия; 25  
в) Армения - Белоруссия                      г) Грузия - Болгария

2. В каком варианте правильно указаны координаты крайней восточной материковой точки России?

- а) 66° с.ш. 169° з.д.;    б) 77° ю.ш. 105° в.д.;    в) 70° с.ш. 30° з.д.;    г) 45° с.ш. 45° в.д. 25

3. Если именованный масштаб карты в 1 см 2 км, то численный масштаб составляет

- а) 1:2 000                       б) 1: 200 000                      25  
в) 1: 20 000                      г) 1: 2 000 000

4. Какой ученый, наблюдая за затмением луны, впервые предположил, что Земля имеет форму шара?

- а) Меркатор;     б) Аристотель;    в) Эратосфен;    г) Пифагор. 25

5. Кто впервые точно измерил диаметр Земли?

- а) Эратосфен;    б) Меркатор;    в) Бирони;    г) Ортели;    д) Птолемей. 25

6. Северный и южный склоны холма очерчены 6-ю сплошными горизонталями.

Расстояние между соседними горизонталями на северном склоне 3 мм, а на южном – 5 мм. Найдите верное утверждение:

- а) северный склон круче южного,    б) южный склон круче северного,    в) северный склон выше южного,    г) южный склон выше северного,    д) склоны имеют одинаковую крутизну. 25

7. Выберите единственно правильный ответ:

- а) Россию пересекает линия перемены дат;  
б) Россия расположена в трех полушариях;  
 в) Россия расположена в двенадцати часовых поясах;                      05  
г) Россия расположена в одном поясе освещенности;  
 д) В столице России в период с мая по октябрь включительно продолжительность дня больше ночи

8. На мировой карте полушарий наименьшее искажение имеет:

- а) о-ва Новая Зеландия;    б) о-ва Японские;     в) п-ов Индостан;    г) п-ов Чукотский 25

9. Определите тип климата по описанию:

«Жара нестерпимая. Океан затих. Знойно и душно. В воздухе никакого движения. В каютах нечем дышать, тело покрывается испариной, простыни и подушки влажные».

- а) умеренный морской                      в) тропический пустынный                      25  
б) экваториальный    г) субтропический

10. Заповедник «Долина гейзеров» находится...

- а) на Камчатке                      в) в Крыму                      25  
б) на Алтае                      г) в Западной Сибири                      25



## Часть В

1. Выберите из списка государства, жители которых могут видеть Солнце в северной части неба:

- а) Украина, б) Япония, в) Индия, г) Аргентина, д) Испания, е) Монголия, ж) Люксембург, з) Филиппины, и) Чили, к) Тунис, л) Ливия, м) Намибия, н) Мадагаскар

10

2. Найдите соответствие: прибор для измерения метеорологического явления или процесса – его название:

- |   |               |
|---|---------------|
| а) прибор для измерения атмосферного давления     | 1) анемометр  |
| б) прибор для измерения влажности воздуха         | 2) барометр   |
| в) прибор для измерения количества жидких осадков | 3) гигрометр  |
| г) прибор для определения направления ветра       | 4) пнеумограф |
| д) прибор для измерения скорости ветра            | 5) флюгер     |

05

3. Какой буквой на карте России обозначена Архангельская область?



- 1)A 2)B 3)C 4)D

10

4. На границе какого государства и региона России находится крайняя южная точка страны?

- а) Грузия – Республика Карачаево-Черкесия  
б) Азербайджан – Республика Дагестан  
в) Монголия – Республика Тыва  
г) Северная Корея – Приморский край

10

5. Укажите местное время на меридиане 60° в.д., когда на нулевом меридиане полночь?

- а) 4 часа б) 6 часов в) 12 часов г) 16 часов

05

65

Часть С

1. Какой пролив одновременно соединяет два океана, два моря, разделяет два материка, две части света, два полуострова, два государства? Укажите название этого пролива и парами названия объектов, которые он соединяет или разъединяет.

2. В городах Астрахань, Волгоград, Кострома, Нижний Новгород, Новгород и Тверь решили построить телебашни. В каком из городов шпиль телебашни будет находиться выше всего над уровнем моря, а в каком - ниже при одинаковой высоте металлической конструкции?

3. На нулевом меридиане 12 ч., а на корабле 17 ч. По какому океану, омывающему берега России, плывет корабль?

1. Берингов пролив. 105

3. Северо-ледовитый. 105:

2. Тверь, Нижний Новгород, Волгоград, Нижний Новгород, Астрахань - ниже

Выше

Итого.

Часть А - 125

Часть В - 65

Часть С - 405

Всего 645.

Председатель:

Члены жюри:

Д.В. Новиков

М.И. Александров

С.В. Кошаров

Код Г11002

Олимпиадная работа  
школьного этапа всероссийской олимпиады школьников  
по географии  
обучающегося 11 класса  
муниципального бюджетного общеобразовательного учреждения  
«Средняя общеобразовательная школа № 11»  
Предгорного муниципального округа Ставропольского края

Мартынюк Артем Александрович

Педагог-наставник: учитель географии  
муниципального бюджетного  
общеобразовательного учреждения  
«Средняя общеобразовательная школа  
№ 11» Предгорного муниципального  
округа Ставропольского края  
Митусова Анжела Ивановна

20 сентября 2023 год

**Всероссийская олимпиада школьников по географии**  
**Школьный этап олимпиады**  
**Задания для 10 - 11 класса**

Общее время выполнения работы – 2 урока (90 минут)  
При работе запрещено пользоваться справочными материалами, мобильными телефонами, карманными компьютерами.

**ЧАСТЬ А (1 балл за правильный ответ)**

1. Какое из перечисленных государств по форме правления является монархией?

- 1) Испания
- 2) Португалия
- 3) Франция
- 4) Финляндия

20

2. Какая из перечисленных стран находится в Азии?

- 1) Нигерия
- 2) Пакистан
- 3) Боливия
- 4) Судан

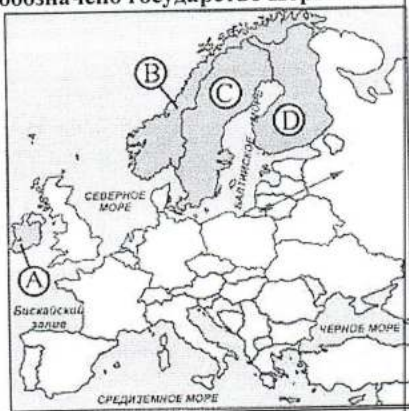
20

3. Для какой из перечисленных стран характерен наибольший приток иммигрантов?

- 1) Иран
- 2) Монголия
- 3) Канада
- 4) Эфиопия

20

4. Какой буквой на фрагменте политической карты зарубежной Европы обозначено государство Норвегия?



- 1) А
- 2) В
- 3) С
- 4) D

20

5. Исключите город не находящийся на Волго-Балтийском водном пути:

- 1) Самара;
- 2) Ярославль;
- 3) Тверь;
- 4) Санкт-Петербург.

25

6. Укажите верные пары «государство и часть Мирового океана, к которой оно имеет выход».

- 1) Испания — Средиземное море
- 2) Турция — Красное море
- 3) Индия — Бенгальский залив
- 4) Венесуэла — Карибское море
- 5) Эфиопия — Аравийское море

15

7. Укажите верные пары «страна — гигант по численности; населения и ее столица».

- 1) Китай — Дели
- 2) Индонезия — Джакарта
- 3) Бразилия — Рио-де-Жанейро
- 4) Пакистан — Исламабад

25

8. Определите страну по описанию.

*Это развивающееся государство расположено на нескольких тысячах больших и малых островов и полуострове, по форме правления является монархией, административное устройство - федерация.*

- 1) Индонезия
- 2) Малайзия
- 3) Филиппины
- 4) Япония

05

9. Укажите тройку стран - лидеров по выплавке стали.

- 1) США
- 2) Россия
- 3) Люксембург
- 4) Бельгия
- 5) Италия
- 6) Япония
- 7) Китай

25

10. Определите страну по описанию.

*Эта государство - гигант по площади, но не по численности населения, оно входит в Содружество с Великобританией, по социально-экономическим показателям является страной переселенческого Капитализма.*

- 1) США
- 2) Бразилия
- 3) Канада
- 4) Нигерия

25

11. В каком из высказываний содержится информация о процессе урбанизации?

- 1) Численность и плотность населения увеличиваются в тех странах и регионах, где наиболее высок естественный прирост населения;
- 2) Половина населения мира живет в сельской местности, а общее количество сельских населенных пунктов составляет 15-20 млн;
- 3) В начале XX в. в мире насчитывалось 360 больших городов, к началу XXI в. число больших городов достигло 4 тыс;
- 4) В наименее развитых странах проживает более 600 млн. человек со среднедушевым ВВП 100 - 300 долл. в год.

20

12. Какая из перечисленных стран находится в Азии?

- 1) Нигерия
- 2) Пакистан
- 3) Боливия
- 4) Судан

25

13. Установите соответствие между страной и ее столицей.

- |            |              |
|------------|--------------|
| 1) Вьетнам | а) Стокгольм |
| 2) Швеция  | б) Коломбо   |
| 3) ЮАР     | в) Хайфой    |
|            | г) Претория  |

25

14. Какая из перечисленных городских агломераций является наиболее крупной по численности населения?

- 1) Варшава  
2) Нью-Йорк  
3) Лондон  
4) Рим

25

15. К концу XX века в мире уменьшилось влияние на размещение отраслей промышленности фактора:

- 1) сырьевого  
2) транспортного  
3) экологического  
4) энергетического

15

135

**Часть В (2 балла за правильный ответ)**

1. Установите соответствие «порт – море»:

- |                |               |
|----------------|---------------|
| 1- Находка     | А- Балтийское |
| 2- Мурманск    | Б- Японское   |
| 3- Калининград | В- Баренцево  |
| 4- Тикси       | Г- Лаптевых.  |

55

2. Особенности географического положения Евразии. Найдите соответствие:

- |  |                   |
|--|-------------------|
| 1) Океан, омывающий западное побережье;      | а) Ла-Манш;       |
| 2) Крайний южный мыс материка;               | б) Атлантический; |
| 3) Залив на юге материка;                    | в) Балканский;    |
| 4) Остров у восточного побережья;            | г) Пиай;          |
| 5) Залив на западе материка;                 | д) Бенгальский;   |
| 6) Пролив, отделяющий остров Великобритании; | е) Тайвань;       |
| 7) Крупный полуостров материка.              | ж) Бискайский.    |

55

3. Установите соответствие между озером и территорией, где оно расположено:

- |               |                                  |
|---------------|----------------------------------|
| 1) Ладожское; | а) в Новгородской области;       |
| 2) Кроноцкое; | б) горные районы юга Сибири;     |
| 3) Байкал;    | в) в Ленинградской области;      |
| 4) Ильмень;   | г) в Тверской области;           |
| 5) Баскунчак; | д) на полуострове Камчатка;      |
| 6) Великое;   | е) на Прикаспийской низменности. |

05  
105

**Часть С**

Задание 1 (3 балла за правильный ответ)

Эта страна-архипелаг по форме правления является конституционной монархией. Однородное по национальному составу население этой страны отличается большой численностью: она входит в первую десятку населения стран мира. Страна обладает очень крупным и самым современным морским торговым флотом, так как около 9/10 используемого сырья и топлива импортируется.

Япония

55

Задание 2 (4 балла за правильный ответ)

Внутренние миграции населения оказывают заметное влияние на численность населения субъектов Российской Федерации. При планировании мер по обеспечению населения жильем, рабочими местами, объектами социальной сферы необходимо учитывать влияние миграционных процессов на численность населения региона. В таблице приведены данные, взятые с официального сайта Федеральной службы государственной статистики.

1633350  
-1621658  
-----  
11682

1637737  
16079  
-----  
1621658

Ответ: миграционный прирост  
11682 105

Численность и естественный прирост населения  
Ленинградской области

	2006	2007	2008
Численность постоянного населения на 1 января, человек.	1643888	1637737	1633350
Естественный прирост населения, человек, значение показателя за год.	-18665	-16079	нет данных

Проанализировав эти данные, определите величину миграционного прироста (убыли) населения Ленинградской области в 2007 г. Запишите решение задачи.

Задание 3. (15 баллов за правильный ответ - 6 баллов – за реку, по 0,5 баллов за притоки, города, баллы за названные электростанции и отрасли промышленности).

«Эта река катит свои воды через всю Сибирь; словно измерив всю необъятную ширь, делит глубоким руслом огромную страну на две равные части. Сказочно хороша река своим величавым течением, природой и живописными городами и селами, горделиво возвышающимися на крутых берегах. С левого берега у реки притоков мало и нет среди них значительных. Все крупные притоки подходят к реке справа. Это самая многоводная река России. Она выносит в океан воды больше, чем все реки Европейской части страны». (По А. Муранову)

О какой реке идет речь? Назовите известные вам притоки этой реки. Какие крупные города находятся на её берегах и берегах притоков? Какие сооружения и отрасли промышленности возникли на этой реке?

Енисей 58 Отрасли: ТЭС

Задание 4. (14 баллов (2 балла за каждый правильный ответ)

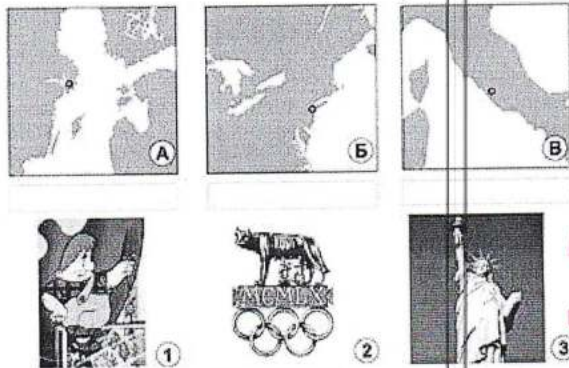
Исправьте географические ошибки

Остров Юкатан Карибское море; Залив Ютландия Балтийское море; Карибское озеро Море; Река Гекла Гекла; Гора Меконг Меконг; Город Лабрадор Хейлсборг; Страна Тегеран Тегеран

45

Задание 5. (12 баллов)

Впишите во вторую колонку таблицы номера рисунков так, чтобы образовались осмысленные пары «город — рисунок». Поясните, почему вы так сделали?



Всего 1 задание - 135  
Часть А - 205  
Часть В - 245  
Всего 675

Предсказать!  
Д.В. Новикова  
Ирина Косарева  
М.И. Мухоморова  
С.В. Колесников

Объект	Рисунок	Пояснение
А	1	Карлистая в Швеции селена
Б	3	Статуя свободы в Нью-Йорке
В	2	Виллиамс в Грине

155

Олимпиадная работа  
школьного этапа всероссийской олимпиады школьников  
по географии  
обучающегося 10 класса  
муниципального бюджетного общеобразовательного учреждения  
«Средняя общеобразовательная школа № 11»  
Предгорного муниципального округа Ставропольского края

Матвиенко Михаил Васильевич

Педагог-наставник: учитель географии  
муниципального бюджетного  
общеобразовательного учреждения  
«Средняя общеобразовательная школа  
№ 11» Предгорного муниципального  
округа Ставропольского края  
Митусова Анжела Иванова

20 сентября 2023 год



**Всероссийская олимпиада школьников по географии**  
**Школьный этап олимпиады**  
**Задания для 10 - 11 класса**

Общее время выполнения работы – 2 урока (90 минут)

При работе запрещено пользоваться справочными материалами, мобильными телефонами, карманными компьютерами.

**ЧАСТЬ А (1 балл за правильный ответ)**

1. Какое из перечисленных государств по форме правления является монархией?

- 1) Испания
- 2) Португалия
- 3) Франция
- 4) Финляндия

20

2. Какая из перечисленных стран находится в Азии?

- 1) Нигерия
- 2) Пакистан
- 3) Боливия
- 4) Судан

20

3. Для какой из перечисленных стран характерен наибольший приток иммигрантов?

- 1) Иран
- 2) Монголия
- 3) Канада
- 4) Эфиопия

20

4. Какой буквой на фрагменте политической карты зарубежной Европы обозначено государство Норвегия?



- 1) A
- 2) B
- 3) C
- 4) D

20

5. Исключите город не находящийся на Волго-Балтийском водном пути:

- 1) Самара;
- 2) Ярославль;
- 3) Тверь;
- 4) Санкт-Петербург.

15

6. Укажите верные пары «государство и часть Мирового океана, к которой оно имеет выход».

- 1) Испания — Средиземное море
- 2) Турция — Красное море
- 3) Индия — Бенгальский залив
- 4) Венесуэла — Карибское море
- 5) Эфиопия — Аравийское море

15

7. Укажите верные пары «страна — гигант по численности; населения и ее столица».

- 1) Китай — Дели
- 2) Индонезия — Джакарта
- 3) Бразилия — Рио-де-Жанейро
- 4) Пакистан — Исламабад

15

8. Определите страну по описанию.

*Это развивающееся государство расположено на нескольких тысячах больших и малых островов и полуострове, по форме правления является монархией, административное устройство - федерация.*

- 1) Индонезия
- 2) Малайзия
- 3) Филиппины
- 4) Япония

15

9. Укажите тройку стран - лидеров по выплавке стали.

- 1) США
- 2) Россия
- 3) Люксембург
- 4) Бельгия
- 5) Италия
- 6) Япония
- 7) Китай

15

10. Определите страну по описанию.

*Эти государство - гигант по площади, но не по численности населения, оно входит в Содружество с Великобританией, по социально-экономическим показателям является страной переселенческого Капитализма.*

- 1) США
- 2) Бразилия
- 3) Канада
- 4) Нигерия

15

11. В каком из высказываний содержится информация о процессе урбанизации?

- 1) Численность и плотность населения увеличиваются в тех странах и регионах, где наиболее высок естественный прирост населения;
- 2) Половина населения мира живет в сельской местности, а общее количество сельских населенных пунктов составляет 15-20 млн;
- 3) В начале XX в. в мире насчитывалось 360 больших городов, к началу XXI в. число больших городов достигло 4 тыс;
- 4) В наименее развитых странах проживает более 600 млн. человек со среднемудушевым ВВП 100 - 300 долл. в год.

00

12. Какая из перечисленных стран находится в Азии?

- 1) Нигерия
- 2) Боливия
- 3) Пакистан
- 4) Судан

15

13. Установите соответствие между страной и ее столицей.

- |            |              |             |
|------------|--------------|-------------|
| 1) Вьетнам | а) Стокгольм |             |
| 2) Швеция  | б) Колombo   |             |
| 3) ЮАР     | в) Ханой     | г) Претория |

15

1-в 2-а 3-г

14. Какая из перечисленных городских агломераций является наиболее крупной по численности населения?

- 1) Варшава      ② Нью-Йорк  
3) Лондон        4) Рим

25

15. К концу XX века в мире уменьшилось влияние на размещение отраслей промышленности фактора:

- ① сырьевого  
2) транспортного  
3) экологического  
4) энергетического

25

265

### Часть В (2 балла за правильный ответ)

1. Установите соответствие «порт – море»:

- 1- Находка      А- Балтийское  
2- Мурманск    Б- Японское  
3- Калининград В- Баренцево  
4- Тикси        Г- Лаптевых

50

2. Особенности географического положения Евразии. Найдите соответствие:

- 1) Океан, омывающий западное побережье;      а) Ла-Манш;  
2) Крайний южный мыс материка;                б) Атлантический;  
3) Залив на юге материка;                            в) Балканский;  
4) Остров у восточного побережья;              г) Пинак;  
5) Залив на западе материка;                        д) Бенгальский;  
6) Пролив, отделяющий остров Великобритания; е) Тайвань;  
7) Крупный полуостров материка.                ж) Бискайский.

50

3. Установите соответствие между озером и территорией, где оно расположено:

- 1) Ладожское;      а) в Новгородской области;  
2) Кронцкое;      б) горные районы юга Сибири;  
3) Байкал;        в) в Ленинградской области;  
4) Ильмень;        г) в Тверской области;  
5) Баскунчак;     д) на полуострове Камчатка;  
6) Великое;        е) на Прикаспийской низменности.

05

### Часть С

105

Задание 1 (3 балла за правильный ответ)

Эта страна-архипелаг по форме правления является конституционной монархией. Однородное по национальному составу население этой страны отличается большой численностью: она входит в первую десятку населения стран мира. Страна обладает очень крупным и самым современным морским торговым флотом, так как около 9/10 используемого сырья и топлива импортируется.

305

Задание 2 (4 балла за правильный ответ)

Внутренние миграции населения оказывают заметное влияние на численность населения субъектов Российской Федерации. При планировании мер по обеспечению населения жильем, рабочими местами, объектами социальной сферы необходимо учитывать влияние миграционных процессов на численность населения региона. В таблице приведены данные, взятые с официального сайта Федеральной службы государственной статистики.

05

**Численность и естественный прирост населения  
Ленинградской области**

	2006	2007	2008
Численность постоянного населения на 1 января, человек.	1643888	1637737	1633350
Естественный прирост населения, человек, значение показателя за год.	-18665	-16079	нет данных

Проанализировав эти данные, определите величину миграционного прироста (убыли) населения Ленинградской области в 2007 г. Запишите решение задачи.

155

**Задание 3. (15 баллов за правильный ответ - 6 баллов - за реку, по 0,5 баллов за притоки, города, баллы за названные электростанции и отрасли промышленности).**

«Эта река катит свои воды через всю Сибирь; словно измерив всю несбывшую ширь, делит глубоким руслом огромную страну на две равные части. Сказочно хороша река своим величавым течением, природой и живописными городами и селами, горделиво возвышающимися на крутых берегах. С левого берега у реки притоков мало и нет среди них значительных. Все крупные притоки подходят к реке справа. Это самая многоводная река России. Она выносит в океан воды больше, чем все реки Европейской части страны». (По А. Муранову)

О какой реке идет речь? Назовите известные вам притоки этой реки. Какие крупные города находятся на её берегах и берегах притоков? Какие сооружения и отрасли промышленности возникли на этой реке?

05

**Задание 4. (14 баллов (2 балла за каждый правильный ответ))**

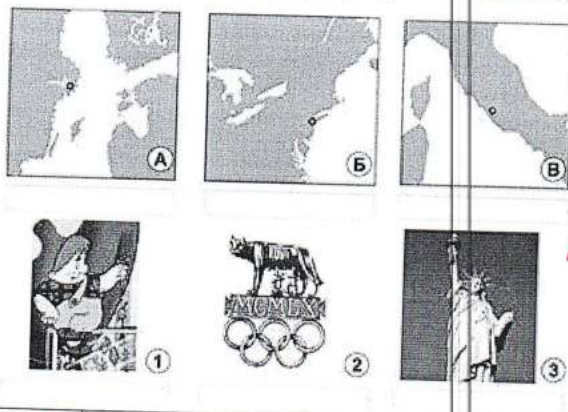
**Исправьте географические ошибки**

Остров Юкатан полуостров; Залив Ютландия полуостров; Карибское озеро море; Река Гекла впадина; Гора Меконг река; Город Лабрадор п-ов; Страна Тегеран город

145

**Задание 5. (12 баллов)**

Впишите во вторую колонку таблицы номера рисунков так, чтобы образовались осмысленные пары «город — рисунок». Поясните, почему вы так сделали?



Итого  
Задача 3 - 265  
Часть В - 105  
Часть С - 345 + 15 = 49  
Всего - 405 + 15 = 425  
Предложения:  
1. В. Новелова  
2. М. Мельникова  
3. К. Кошарова.

Объект	Рисунок	Пояснение
А	1	
Б	3	США
В	2	

Б - статуя свободы находится в США в Нью-Йорке

В - первые олимпийские игры были в Италии

155

Код Г11003

Олимпиадная работа  
школьного этапа всероссийской олимпиады школьников  
по географии  
обучающегося 11 класса  
муниципального бюджетного общеобразовательного учреждения  
«Средняя общеобразовательная школа № 11»  
Предгорного муниципального округа Ставропольского края

Озерной Сергей Викторович

Педагог-наставник: учитель географии  
муниципального бюджетного  
общеобразовательного учреждения  
«Средняя общеобразовательная школа  
№ 11» Предгорного муниципального  
округа Ставропольского края  
Митусова Анжела Ивановна

20 сентября 2023 год

**Всероссийская олимпиада школьников по географии**  
**Школьный этап олимпиады**  
**Задания для 10 - 11 класса**

Общее время выполнения работы – 2 урока (90 минут)  
При работе запрещено пользоваться справочными материалами, мобильными телефонами, карманными компьютерами.

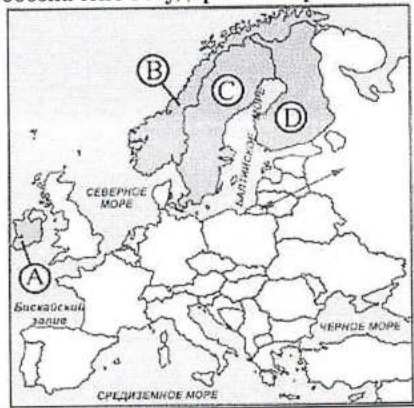
**ЧАСТЬ А (1 балл за правильный ответ)**

1. Какое из перечисленных государств по форме правления является монархией?
- 1) Испания
  - 2) Португалия
  - 3) Франция
  - 4) Финляндия
- 25

2. Какая из перечисленных стран находится в Азии?
- 1) Нигерия
  - 2) Пакистан
  - 3) Боливия
  - 4) Судан
- 25

3. Для какой из перечисленных стран характерен наибольший приток иммигрантов?
- 1) Иран
  - 2) Монголия
  - 3) Канада
  - 4) Эфиопия
- 25

4. Какой буквой на фрагменте политической карты зарубежной Европы обозначено государство Норвегия?



- 1) А
  - 2) В
  - 3) С
  - 4) D
- 25

5. Исключите город не находящийся на Волго-Балтийском водном пути:

- 1) Самара;
- 2) Ярославль;
- 3) Тверь;
- 4) Санкт-Петербург.

25

6. Укажите верные пары «государство и часть Мирового океана, к которой оно имеет выход».

- 1) Испания — Средиземное море
- 2) Турция — Красное море
- 3) Индия — Бенгальский залив
- 4) Венесуэла — Карибское море
- 5) Эфиопия — Аравийское море

25

7. Укажите верные пары «страна — гигант по численности; населения и ее столица».

- 1) Китай — Дели
- 2) Индонезия — Джакарта
- 3) Бразилия — Рио-де-Жанейро
- 4) Пакистан — Исламабад

05

8. Определите страну по описанию.

*Это развивающееся государство расположено на нескольких тысячах больших и малых островов и полуостровов, по форме правления является монархией, административное устройство - федерация.*

- 1) Индонезия
- 2) Малайзия
- 3) Филиппины
- 4) Япония

05

9. Укажите тройку стран - лидеров по выплавке стали.

- 1) США
- 2) Россия
- 3) Люксембург
- 4) Бельгия
- 5) Италия
- 6) Япония
- 7) Китай

25

10. Определите страну по описанию.

*Эти государство - гигант по площади, но не по численности населения, оно входит в Содружество с Великобританией, по социально-экономическим показателям является страной переселенческого Капитализма.*

- 1) США
- 2) Бразилия
- 3) Канада
- 4) Нигерия

05

11. В каком из высказываний содержится информация о процессе урбанизации?

- 1) Численность и плотность населения увеличиваются в тех странах и регионах, где наиболее высок естественный прирост населения;
- 2) Половина населения мира живет в сельской местности, а общее количество сельских населенных пунктов составляет 15-20 млн;
- 3) В начале XX в. в мире насчитывалось 360 больших городов, к началу XXI в. число больших городов достигло 4 тыс;
- 4) В наименее развитых странах проживает более 600 млн. человек со среднедушевым ВВП 100 - 300 долл. в год.

25

12. Какая из перечисленных стран находится в Азии?

- 1) Нигерия
- 2) Пакистан
- 3) Боливия
- 4) Судан

25

13. Установите соответствие между страной и ее столицей.

- |            |              |             |
|------------|--------------|-------------|
| 1) Вьетнам | а) Стокгольм |             |
| 2) Швеция  | б) Коломбо   |             |
| 3) ЮАР     | в) Ханой     | г) Претория |

25

18 2a 3Г

14. Какая из перечисленных городских агломераций является наиболее крупной по численности населения?

- 1) Варшава  
 2) Нью-Йорк  
 3) Лондон  
 4) Рим

25

15. К концу XX века в мире уменьшилось влияние на размещение отраслей промышленности фактора:

- 1) сырьевого  
 2) транспортного  
 3) экологического  
 4) энергетического

25

245

**Часть В (2 балла за правильный ответ)**

1. Установите соответствие «порт – море»:

- |                |               |
|----------------|---------------|
| 1- Находка     | А- Балтийское |
| 2- Мурманск    | Б- Японское   |
| 3- Калининград | В- Баренцево  |
| 4- Тикси       | Г- Лаптевых.  |

18  
 2B  
 3A  
 4Г

58

2. Особенности географического положения Евразии. Найдите соответствие:

- |  |                   |
|--|-------------------|
| 1) Океан, омывающий западное побережье;      | а) Ла-Манш;       |
| 2) Крайний южный мыс материка;               | б) Атлантический; |
| 3) Залив на юге материка;                    | в) Балканский;    |
| 4) Остров у восточного побережья;            | г) Пийай;         |
| 5) Залив на западе материка;                 | д) Бенгальский;   |
| 6) Пролив, отделяющий остров Великобритания; | е) Тайвань;       |
| 7) Крупный полуостров материка;              | ж) Бискайский.    |

1-б  
 2-в  
 3-д  
 4-г  
 5-ж  
 6-а  
 7-б

05

3. Установите соответствие между озером и территорией, где оно расположено:

- |               |                                  |
|---------------|----------------------------------|
| 1) Ладожское; | а) в Новгородской области;       |
| 2) Кроноцкое; | б) горные районы юга Сибири;     |
| 3) Байкал;    | в) в Ленинградской области;      |
| 4) Ильмень;   | г) в Тверской области;           |
| 5) Баскунчак; | д) на полуострове Камчатка;      |
| 6) Великое;   | е) на Прикаспийской низменности. |

1-б  
 2-в  
 3-д  
 4-г  
 5-а  
 6-г

58

**Часть С**

**Задание 1 (3 балла за правильный ответ)**

Эта страна-архипелаг по форме правления является конституционной монархией. Однородное по национальному составу население этой страны отличается большой численностью: она входит в первую десятку населения стран мира. Страна обладает очень крупным и самым современным морским торговым флотом, так как около 9/10 используемого сырья и топлива импортируется. (Япония)

58

**Задание 2 (4 балла за правильный ответ)**

Внутренние миграции населения оказывают заметное влияние на численность населения субъектов Российской Федерации. При планировании мер по обеспечению населения жильем, рабочими местами, объектами социальной сферы необходимо учитывать влияние миграционных процессов на численность населения региона. В таблице приведены данные, взятые с официального сайта Федеральной службы государственной статистики.

108



1) 1633350 - 16079 = 1617271

2) -4387 - (-16079) = 11692

Ошибки составили 4387, прирост населения составил 11692

Численность и естественный прирост населения  
Ленинградской области

	2006	2007	2008
Численность постоянного населения на 1 января, человек.	1643888	1637737	633350
Естественный прирост населения, человек, значение показателя за год.	-18665	-16079	нет данных

Проанализировав эти данные, определите величину миграционного прироста (убыли) населения Ленинградской области в 2007 г. Запишите решение задачи.

**Задание 3. (15 баллов за правильный ответ - 6 баллов - за реку, по 0,5 баллов за притоки, города, баллы за названные электростанции и отрасли промышленности).**

«Эта река катит свои воды через всю Сибирь; словно измерив всю необъятную ширь, делит глубоким руслом огромную страну на две равные части. Сказочно хороша река своим величавым течением, природой и живописными городами и селами, горделиво возвышающимися на крутых берегах. С левого берега у реки притоков мало и нет среди них значительных. Все крупные притоки подходят к реке справа. Это самая многоводная река России. Она выносит в океан воды больше, чем все реки Европейской части страны». (По А. Муранову)

О какой реке идет речь? Назовите известные вам притоки этой реки. Какие крупные города находятся на её берегах и берегах притоков? Какие сооружения и отрасли промышленности возникли на этой реке?

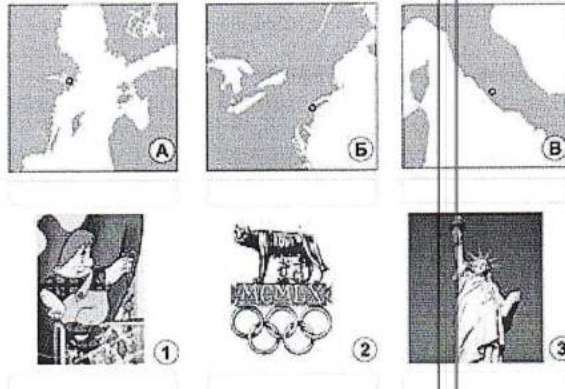
На Енисее Красноярская ГЭС *Енисей, Зеновско-Сибирская*

**Задание 4. (14 баллов (2 балла за каждый правильный ответ))** Исправьте географические ошибки

Остров Юкатан *Полуостров*; Залив Ютландия *Полуостров*; Карибское озеро *Река*; Река Гекла *Гора*; Гора Меконг *Река*; Город Лабрадор *Город*

**Задание 5. (12 баллов)**

Впишите во вторую колонку таблицы номера рисунков так, чтобы образовались осмысленные пары «город — рисунок». Поясните, почему вы так сделали?



Объект	Рисунок	Пояснение
А	1	Швеция
Б	3	США
В	2	Италия

*Много.*  
 Издание - 145;  
 Часть В - 105;  
 Часть С - 505  
 Всего - 845.  
 Председатель:  
 Д.В. Новикова  
 Члены комиссии:  
 Е.И. Мухомов  
 С.В. Кошарова

Код Г 11 001

Олимпиадная работа  
школьного этапа всероссийской олимпиады школьников  
по географии  
обучающегося 11 класса  
муниципального бюджетного общеобразовательного учреждения  
«Средняя общеобразовательная школа № 11»  
Предгорного муниципального округа Ставропольского края

Примаков Артем Николаевич

Педагог-наставник: учитель географии  
муниципального бюджетного  
общеобразовательного учреждения  
«Средняя общеобразовательная школа  
№ 11» Предгорного муниципального  
округа Ставропольского края  
Митусова Анжела Иванова

20 сентября 2023 год

**Всероссийская олимпиада школьников по географии**  
**Школьный этап олимпиады**  
**Задания для 10 - 11 класса**

Общее время выполнения работы – 2 урока (90 минут)

При работе запрещено пользоваться справочными материалами, мобильными телефонами, карманными компьютерами.

**ЧАСТЬ А (1 балл за правильный ответ)**

1. Какое из перечисленных государств по форме правления является монархией?

- 1) Испания
- 2) Португалия
- 3) Франция
- 4) Финляндия

25

2. Какая из перечисленных стран находится в Азии?

- 1) Нигерия
- 2) Пакистан
- 3) Боливия
- 4) Судан

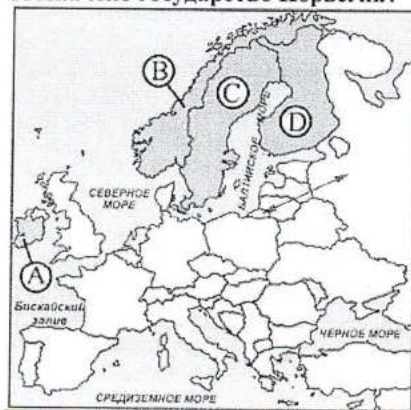
25

3. Для какой из перечисленных стран характерен наибольший приток иммигрантов?

- 1) Иран
- 2) Монголия
- 3) Канада
- 4) Эфиопия

25

4. Какой буквой на фрагменте политической карты зарубежной Европы обозначено государство Норвегия?



- 1) А
- 2) В
- 3) С
- 4) D

25

5. Исключите город не находящийся на Волго-Балтийском водном пути:

- 1) Самара;
- 2) Ярославль;
- 3) Тверь;
- 4) Санкт-Петербург.

05

6. Укажите верные пары «государство и часть Мирового океана, к которой оно имеет выход».

- 1) Испания — Средиземное море
- 2) Турция — Красное море
- 3) Индия — Бенгальский залив
- 4) Венесуэла — Карибское море
- 5) Эфиопия — Аравийское море

15

7. Укажите верные пары «страна — гигант по численности; населения и ее столица».

- 1) Китай — Дели
- 2) Индонезия — Джакарта
- 3) Бразилия — Рио-де-Жанейро
- 4) Пакистан — Исламабад

15

8. Определите страну по описанию.

Это развивающееся государство расположено на нескольких тысячах больших и малых островов и полуострове, по форме правления является монархией, административное устройство - федерация.

- 1) Индонезия
- 2) Малайзия
- 3) Филиппины
- 4) Япония

05

9. Укажите тройку стран - лидеров по выплавке стали.

- 1) США
- 2) Россия
- 3) Люксембург
- 4) Бельгия
- 5) Италия
- 6) Япония
- 7) Китай

25

10. Определите страну по описанию.

Эта государство - гигант по площади, но не по численности населения, оно входит в Содружество с Великобританией, по социально-экономическим показателям является страной переселенческого Капитализма.

- 1) США
- 2) Бразилия
- 3) Канада
- 4) Нигерия

25

11. В каком из высказываний содержится информация о процессе урбанизации?

- 1) Численность и плотность населения увеличиваются в тех странах и регионах, где наиболее высок естественный прирост населения;
- 2) Половина населения мира живет в сельской местности, а общее количество сельских населенных пунктов составляет 15-20 млн;
- 3) В начале XX в. в мире насчитывалось 360 больших городов, к началу XXI в. число больших городов достигло 4 тыс;
- 4) В наименее развитых странах проживает более 600 млн. человек со среднедушевым ВВП 100 - 300 долл. в год.

05

12. Какая из перечисленных стран находится в Азии?

- 1) Нигерия
- 2) Пакистан
- 3) Боливия
- 4) Судан

25

13. Установите соответствие между страной и ее столицей.

- |            |              |
|------------|--------------|
| 1) Вьетнам | а) Стокгольм |
| 2) Швеция  | б) Коломбо   |
| 3) ЮАР     | в) Ханой     |
|            | г) Претория  |

25

14. Какая из перечисленных городских агломераций является наиболее крупной по численности населения?

- 1) Варшава  
2) Нью-Йорк  
3) Лондон  
4) Рим

20

15. К концу XX века в мире уменьшилось влияние на размещение отраслей промышленности фактора:

- 1) сырьевого  
2) транспортного  
3) экологического  
4) энергетического

20

20

### Часть В (2 балла за правильный ответ)

1. Установите соответствие «порт – море»:

- |                |               |
|----------------|---------------|
| 1- Находка     | А- Балтийское |
| 2- Мурманск    | Б- Японское   |
| 3- Калининград | В- Баренцево  |
| 4- Тикси       | Г- Лаптевых   |

20

2. Особенности географического положения Евразии. Найдите соответствие:

- |  |                   |
|--|-------------------|
| 1) Океан, омывающий западное побережье       | а) Ла-Манш;       |
| 2) Крайний южный мыс материка;               | б) Атлантический; |
| 3) Залив на юге материка;                    | в) Балканский;    |
| 4) Остров у восточного побережья;            | г) Пийай;         |
| 5) Залив на западе материка;                 | д) Бенгальский;   |
| 6) Пролив, отделяющий остров Великобритании; | е) Тайвань;       |
| 7) Крупный полуостров материка.              | ж) Бискайский.    |

50

3. Установите соответствие между озером и территорией, где оно расположено:

- |               |                                  |
|---------------|----------------------------------|
| 1) Ладожское; | а) в Новгородской области;       |
| 2) Кроноцкое; | б) горные районы юга Сибири;     |
| 3) Байкал;    | в) в Ленинградской области;      |
| 4) Ильмень;   | г) в Тверской области;           |
| 5) Баскунчак; | д) на полуострове Камчатка;      |
| 6) Великое;   | е) на Прикаспийской низменности. |

05

75

### Часть С

Задание 1 (3 балла за правильный ответ)

Эта страна-архипелаг по форме правления является конституционной монархией. Однородное по национальному составу население этой страны отличается большой численностью: она входит в первую десятку населения стран мира. Страна обладает очень крупным и самым современным морским торговым флотом, так как около 9/10 используемого сырья и топлива импортируется.

Япония

50

Задание 2 (4 балла за правильный ответ)

Внутренние миграции населения оказывают заметное влияние на численность населения субъектов Российской Федерации. При планировании мер по обеспечению населения жильем, рабочими местами, объектами социальной сферы необходимо учитывать влияние миграционных процессов на численность населения региона. В таблице приведены данные, взятые с официального сайта Федеральной службы государственной статистики.

$$\begin{array}{r} 2) 1) 1637737 \\ - 16079 \\ \hline 1621658 \end{array}$$

$$\begin{array}{r} 2) 1633380 \\ - 7621658 \\ \hline 11692 \end{array}$$

Ответ: 11692.

105.

**Численность и естественный прирост населения  
Ленинградской области**

	2006	2007	2008
Численность постоянного населения на 1 января, человек.	1643888	1637737	1633350
Естественный прирост населения, человек, значение показателя за год.	-18665	-16079	нет данных

Проанализировав эти данные, определите величину миграционного прироста (убыли) населения Ленинградской области в 2007 г. Запишите решение задачи.

**Задание 3. (15 баллов за правильный ответ - 6 баллов - за реку, по 0,5 баллов за притоки, города, баллы за названные электростанции и отрасли промышленности).**

«Эта река катит свои воды через всю Сибирь; словно измерив всю необъятную ширь, делит глубоким руслом огромную страну на две равные части. Сказочно хороша река своим величавым течением, природой и живописными городами и селами, горделиво возвышающимися на крутых берегах. С левого берега у реки притоков мало и нет среди них значительных. Все крупные притоки подходят к реке справа. Это самая многоводная река России. Она выносит в океан воды больше, чем все реки Европейской части страны». (По А. Муранову)

О какой реке идет речь? Назовите известные вам притоки этой реки. Какие крупные города находятся на её берегах и берегах притоков? Какие сооружения и отрасли промышленности возникли на этой реке?

Енисей, Тунга, Итират

58

**Задание 4. (14 баллов (2 балла за каждый правильный ответ))**

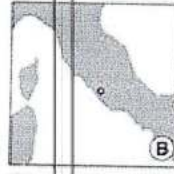
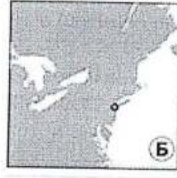

Исправьте географические ошибки

Остров Юкатан полуостров; Залив Ютландия полуостров; Карибское озеро море; Река Гекла бухан; Гора Меконг река; Город Лабрадор полуостров, море; Страна Тегеран страна

105.

**Задание 5. (12 баллов)**

Впишите во вторую колонку таблицы номера рисунков так, чтобы образовались осмысленные пары «город — рисунок». Поясните, почему вы так сделали?



Предположило:

Д.В. Новеллетта

Или же некторе:  
Или же И.И. Шелухов  
Или же С.В. Кошаров.

Объект	Рисунок	Пояснение
А	1	
Б	3	
В	2	

картина в Швеции  
Статуя свободы в Нью-Йорке  
Олимпиада в Дании

155

Код Г6004

Олимпиадная работа  
школьного этапа всероссийской олимпиады школьников  
по географии  
обучающегося 6 В класса  
муниципального бюджетного общеобразовательного учреждения  
«Средняя общеобразовательная школа № 11»  
Предгорного муниципального округа Ставропольского края

Родионова Милана Евгеньевна

Педагог-наставник: учитель географии  
муниципального бюджетного  
общеобразовательного учреждения  
«Средняя общеобразовательная школа  
№ 11» Предгорного муниципального  
округа Ставропольского края  
Митусова Анжела Иванова

20 сентября 2023 год

# Всероссийская олимпиада школьников по географии

## Школьный этап олимпиады

### Задания 5-6 класс

#### Гестовый тур

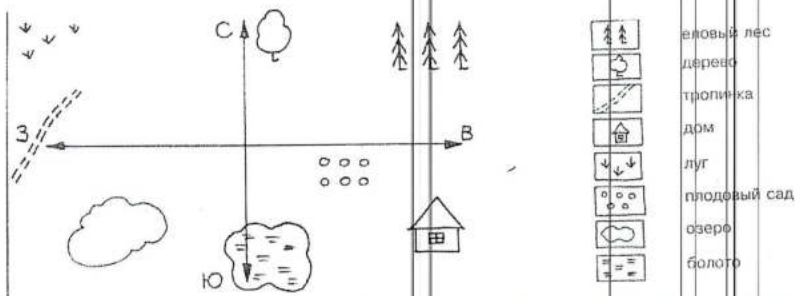
1. Какая из перечисленных планет по счёту находится ближе к Земле?  
а) Меркурий, б) Нептун, в) Сатурн, г) Марс. 05
2. Какая река самая длинная в мире?  
а) Амазонка б) Лена в) Нил г) Волга 05
3. Моря какого океана не омывают берега России?  
а) Северного Ледовитого б) Индийского в) Атлантического г) Тихого. 25
4. С чем связана смена природных зон на Земле?  
а) с неравномерным нагреванием земной поверхности солнечными лучами;  
б) с влиянием морей и океанов;  
в) с влиянием сильных ветров. 05
5. Уберите животное, **не** обитающее в Арктике  
а) кайра б) морж в) пингвин г) тюлень. 25
6. Укажите животных, которых можно встретить в тайге:  
а) бурундук, лось, летяга, соболь;  
б) лемминг, олень, гагара, белый медведь;  
в) дрофа, суслик, хомяк, журавль. 25
7. Какой из материков расположен в четырех полушариях?  
а) Африка б) Антарктида в) Евразия г) Австралия 05
8. Какое из названных ниже растений не растёт в нашем крае?  
а) одуванчик б) подснежник в) подорожник г) жюлька 25
9. Какой объект **не** относится к Всемирному наследию в России?  
а) озеро Байкал б) вулканы Камчатки в) Уральские горы 05
10. Основоположником науки «география» является:  
а) Геродот б) Эратосфен в) Аристотель г) Птолемей 05
11. Длина экватора составляет:  
а) 40000 км б) 39690 км в) 40075 км г) 5100 км 25
12. Солнце встает:  
а) на севере б) на востоке в) на западе г) на юге 25
13. Выберите полушария, образованные линией экватора:  
а) северное б) восточное в) южное г) западное 05
14. Какой океан самый холодный?  
а) Атлантический б) Тихий в) Индийский г) Северный Ледовитый 25
15. Какой заказник находится на территории Ставропольского края?  
а) Астраханский б) Бештаугорский в) Байкальский г) Кедровая Падь 25

168.



### Теоретический тур

**Задание 1** Определите и запишите, в какой стороне горизонта находятся эти объекты.



еловый лес	СВ	25	луг	ЗС	15
дерево	С	15	плодовый сад	ВЮ	15
тропинка	З	15	озеро	ЗЮ	15
дом	ВВЮ	15	болото	Ю	15

160.

### Задание 2

Заполните недостающую информацию в таблице «Природные зоны», используя данные, которые находятся ниже.

№ 1	№ 2	№ 3
Природная зона (впишите название)	«Образное выражение»	Признак (впишите соответствующий номер)
Арктич. пустыня	«море льда»	2
Тундра	«море мха»	1
Тайга	«море деревьев»	5
Степь	«море травы»	4
Пустыня	«море песка»	3

200.

Для № 1 – пустыня, тундра, степь, тайга, арктическая пустыня

Для № 3:

- 1) холодная безлесная болотистая равнина;
- 2) месяцами длится полярная ночь;
- 3) растения замирают летом;
- 4) почва богата перегноем;
- 5) многоярусная растительность.

### Задание 3

1. Какая из названных выше природных зон наиболее изменена человеком? **Степь**
2. Какая из названных выше природных зон является самой большой по площади в России? **Пустыня**

140.

**Задание 4**

Подберите обобщающие слова, добавьте ещё по одному слову в каждую группу.

Группа слов	Обобщающие слова	Можно добавить
Баренцево, Средиземное, Красное	Море 5	Мёртвое
Гренландия, Мадагаскар, Тасмания	Остров 5	Чунча-чанча
Байкал, Каспийское, Виктория	Озёра 5	Кубогиятигорские
Нил, Амазонка, Миссисипи	Реки 5	Лена
Анды, Гималаи, Кавказ	Горы 5	Уральские

250.

Всего:

Тестовый тур - 165

Теоретический тур - 16 + 20 + 13 + 25

Всего: 243.

Председатель:  Д.В. Новикова

Члены жюри:  А.М. Михайлов,  
 С.В. Комаров.

Код Г7007

Олимпиадная работа  
школьного этапа всероссийской олимпиады школьников  
по географии  
обучающегося 7 В класса  
муниципального бюджетного общеобразовательного учреждения  
«Средняя общеобразовательная школа № 11»  
Предгорного муниципального округа Ставропольского края

Салова Диана Александровна

Педагог-наставник: учитель географии  
муниципального бюджетного  
общеобразовательного учреждения  
«Средняя общеобразовательная школа  
№ 11» Предгорного муниципального  
округа Ставропольского края  
Комарова Светлана Владимировна

20 сентября 2023 год

## Всероссийская олимпиада школьников по географии Школьный этап олимпиады.

7 класс

### ЗАДАНИЯ ТЕСТОВОГО ТУРА

Прочитайте предложенные вопросы, на каждый вопрос дайте только один правильный ответ.

(Задания оцениваются в 2 балла. Максимальное количество баллов – 30.)

Тест									
1. Какой из представленных масштабов самый крупный: ①) 1:25000; 2) 1:50000; 3) 1:100000; 4) 1:1000000?									2
2. Превышение точки земной поверхности по отвесной линии над уровнем моря – это: 1) горизонталь; 2) абсолютная высота точки; ③) относительная высота точки; 4) бергштрихи									0
3. Линии, соединяющие точки с одинаковыми глубинами, называют: 1) изотермы; 2) изобары; ③) изобаты; 4) градусная сетка									2
4. На какой карте можно проследить размещение зональных природных комплексов на Земле: 1) физической 2) строения земной коры; 3) климатической; ④) природных зон.									2
5. Где земная кора имеет наибольшую толщину? ①) под океаном; 2) на Кавказе; 3) в Гималаях; 4) на Амазонской низменности.									0
6. Нулевой меридиан проходит через город: 1) Лондон; 2) Париж; ③) Берлин; 4) Москва									0
7. Какова будет температура воздуха на горе Монблан (4800 м), если у ее подножия температура воздуха составила + 20°C: 1) +48,8°C; 2) –48,8°C; 3) +24,8°C; ④) –8,8°C									2
8. Определите, в каком из случаев будет дуть самый сильный ветер: ①) в точке А давление 741 мм в точке Б 750мм; 2) в точке А давление 763 мм в точке Б 758 мм; 3) в точке А давление 754 мм в точке Б 752 мм; 4) в точке А давление 755 мм в точке Б 762 мм.									2

<p>9. Самая низкая температура воздуха, зафиксированная на земном шаре, составляет – 89,2°С. Выберите место, где это могло быть:</p> <p>1) Оймякон (Россия);</p> <p>② Северный полюс;</p> <p>3) Антарктида (станция Восток);</p> <p>4) о. Гренландия.</p>				0
<p>10. Выберите правильное утверждение, в котором указаны материки по мере увеличения их площади:</p> <p>1) Австралия, Антарктида, Северная Америка, Южная Америка, Африка, Евразия;</p> <p>② Евразия, Африка, Северная Америка, Южная Америка, Антарктида, Австралия;</p> <p>3) Австралия, Антарктида, Южная Америка, Африка, Северная Америка, Евразия;</p> <p>4) Австралия, Антарктида, Южная Америка, Северная Америка, Африка, Евразия.</p>				0
<p>11 Самой полноводной рекой на Земле является:</p> <p>1) Ганг ② Амазонка 3) Енисей 4) Нил.</p>				2
<p>12 Наибольшая часть запасов пресных вод на Земле содержится в...</p> <p>① ледниках; 2) реках; 3) озерах; 4) болотах</p>				2
<p>13. Гейзером называют источник, периодически выбрасывающий из земных недр:</p> <p>① лаву</p> <p>2) горячую воду и пар</p> <p>3) газы и пыль</p> <p>4) грязевые потоки</p>				0
<p>14. Укажите верное утверждение.</p> <p>1) Восточно-Европейская равнина имеет плоскую поверхность;</p> <p>② Алтайские горы расположены на материке Евразия;</p> <p>3) Вулкан Ключевская Сопка расположен на Скандинавском полуострове;</p> <p>4) Гора Казбек – самая высокая вершина Кавказа.</p>				2
<p>15. В саратовских степях обитает самая крупная летающая птица мира. Какая?</p> <p>1) аист</p> <p>② дрофа 3) лебедь 4) тетерев</p>				2

**ЗАДАНИЯ ТЕОРЕТИЧЕСКОГО ТУРА .**

Вопрос 1 Дополните предложения.

Ответьте на вопросы. (5 баллов) -256

1. Дополните: «Равнины, расположенные на высоте от 200 до 500 метров над уровнем моря, называются _____» <i>возвышенностями</i>	<i>5</i>
2. О каком понятии идет речь: «Ветер, меняющий своё направление дважды в год»? _____ <i>Этот муссон в Восточной и Юго-восточной части Азии</i>	<i>5</i>
3. Укажите «цветные» моря? _____ <i>Белое море, Красное море, Чёрное море, Жёлтое море.</i>	<i>5</i>
4. Назовите самое большое по площади озеро Земли? <i>Каспийское</i>	<i>5</i>
5. Назовите высочайшие горы мира? <i>Гималаи. (Эверест)</i>	<i>5</i>

Вопрос 2

Составьте пары правильных ответов «прибор- единица измерения», которой характеризуется измеряемая прибором величина.

(2 балла) 106

Единицы измерения: балл, метр, миллиметр, миллиметр ртутного столба, процент%

барометр	гигрометр	осадкомер	флюгер	эхолот
<i>мм рт.ст. миллиметр ртутного столба</i>	<i>% процент</i>	<i>мм миллиметр</i>	<i>балл</i>	<i>метр</i>
<i>2</i>	<i>2</i>	<i>2</i>	<i>2</i>	<i>2</i>

Вопрос 3. За каждый правильный ответ – 2балла (10)

Какой пролив одновременно соединяет два океана, два моря, разделяет два материка, две части света, два государства? Укажите название этого пролива и парами названия объектов, которые он соединяет или разъединяет

Какие?
Какой пролив одновременно соединяет-
два океана-
два моря-
разделяет два материка-
два государства-

*0*

Вопрос 4. Заполните таблицу:  
 За каждый правильный ответ – 5 баллов. Количество баллов – 35  
 «Имена путешественников и исследователей эпохи Великих географических открытий»

№ п/п	Исследования	Даты	Имена исследователя	
1	Первым побывал у берегов Южной Америки и исследовал ее западное побережье.	1492	Христофор Колумб	5
2	Часть света названа его именем, т.к. он исследовал этот материк.	1501		0
3	Он совершил первое кругосветное путешествие.	1518		0
4	Он обогнул Африку и нашел морской путь в Индию.	1497		0
5	Из Англии проложил путь к Северной Америке.	1497		0
6	Путешествие из России в Индию по Волге, через Персию.	1466		0
7	Исследовал восточные берега Южной Америки, совершил кругосветное путешествие.	1577		0

Тест : 18,8

- 1 задание : 25,8
- 2 задание : 10,8
- 3 задание : 0,8
- 4 задание : 5,8

Итого : 58,8

Председатель : Навилова З.В.  
 Члены жюри : Мискова Н.А. М.  
 Кашаева С.В. М.